

練習してパワーアップしましょう

ホップ

名前 ()

右の折れ線グラフは、1年間の気温の変わり方を表したものです。

①たてのじくと、横のじくは、それぞれ何を表していますか。

たて ()

横 ()

②10月の気温は何度ですか。

(度)

③気温がいちばん高いのは何月ですか。

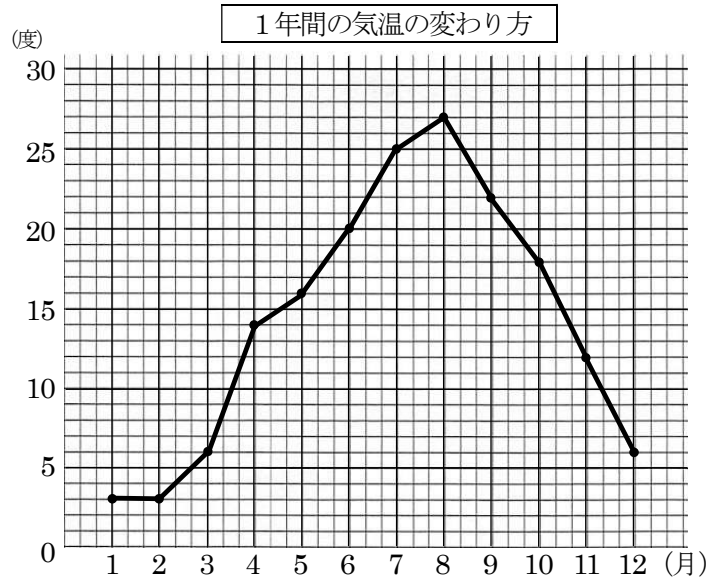
(月)

④気温が変わらないのは、何月と何月の間ですか。

(月と 月の間)

⑤気温の上がり方がいちばん大きいのは、何月と何月の間ですか。

(月と 月の間)

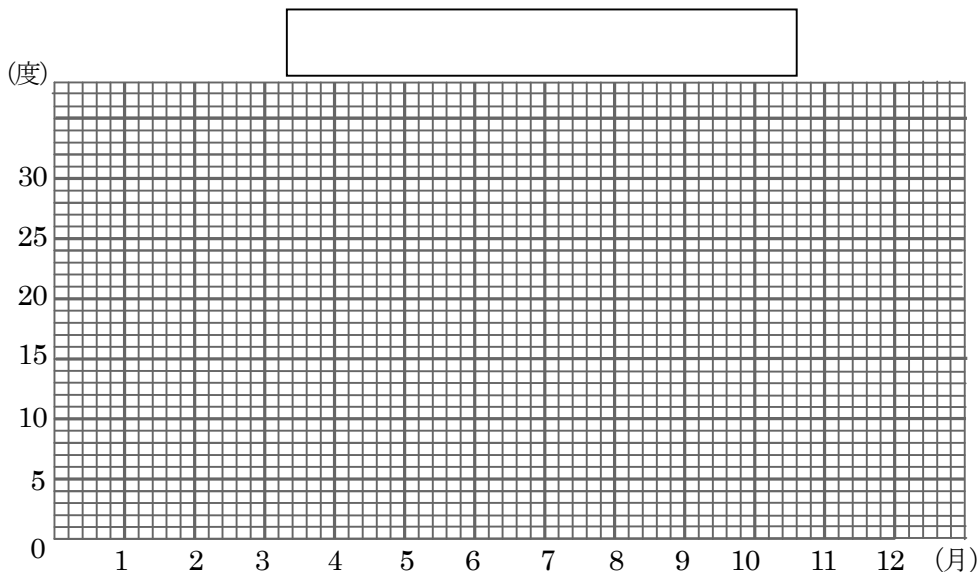


ステップ

1年間の気温の変わり方

月	1	2	3	4	5	6	7	8	9	10	11	12
気温 (度)	7	7	9	13	19	20	27	30	26	19	13	9

①変わり方を、折れ線グラフに表しましょう。

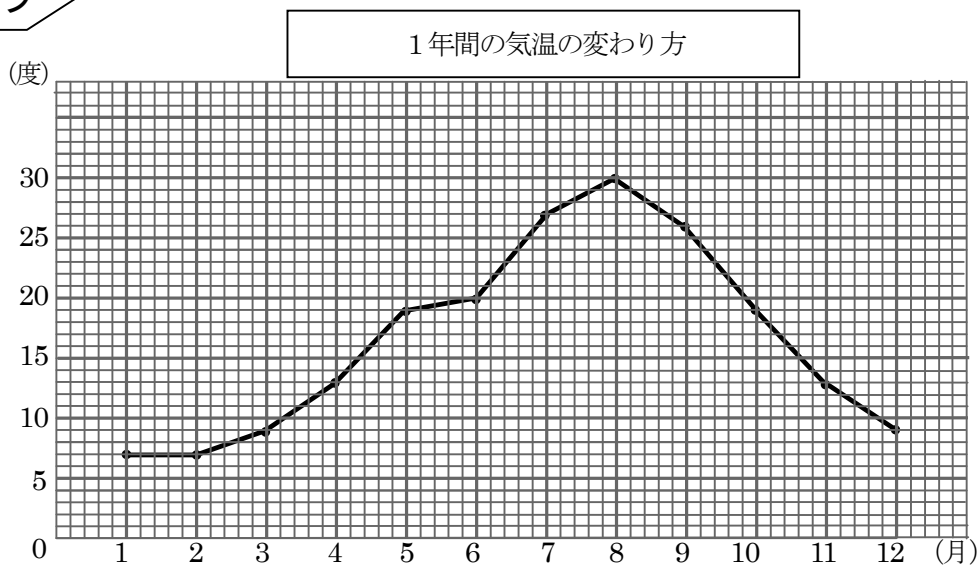


《解答》

ホップ

- ①たて . . . 気温
横 . . . 月
- ②18度
- ③8月
- ④1月と2月の間
- ⑤3月と4月の間

ステップ



ジャンプ

1

- ①9日
- ②5200円
- ③2007年
15日
- ④2009年
2800円
- ⑤(解答例)
 - ・雪が多くふった年は、灯油を買った代金も多い。
 - ・雪が少なかった年は、灯油を買った代金も少ない。

2

- (解答例)
- ・省略しているBのグラフの方が、1めもりのかんかくが大きくて、変わり方が見やすい。
 - ・省略しているBのグラフの方が、1時の気温を読むときも分かりやすい。